

001. Se Dora è più bassa di Mara e Rita è più alta di Dora...

- A) Mara e Rita sicuramente hanno altezza uguale.
- B) È certo che Mara è più alta di Rita.
- C) Non è escluso che Mara e Rita abbiano la stessa altezza.

002. Il sito Internet "www.google.it" è un potente....

- A) Motore di ricerca.
- B) Gestore di siti per comunicare con altri utenti.
- C) Gestore di posta elettronica.

003. Quale numero integra correttamente la serie:

12345 - ..?.. - 34567 - 45678

- A) 23456.
- B) 23457.
- C) 23466.

004. Cosa è la residenza?

- A) Il luogo in cui la persona ha la dimora abituale.
- B) Il luogo in cui la persona lavora.
- C) Il luogo in cui la persona passa il maggior tempo.

005. La durata della "legislatura" è stabilita dalla Costituzione in....

- A) Non meno di otto anni.
- B) Sei anni.
- C) Cinque anni.

006. Il Castagno....

- A) È un albero a chioma molto ampia, alto fino a 30 m.
- B) Non supera i 15 metri d'altezza.
- C) Produce dei frutti simili a dei con.

007. Gli elementi che caratterizzano il vento sono la direzione e l'intensità (velocità). La bora....

- A) È un vento di nord-est ed ha una velocità media di circa 100 Km/h ma può raggiungere anche i 140 km/h.
- B) È un vento caldo che spira da sud ma è molto intenso e fastidioso perché spesso trascina con sé anche la sabbia dei deserti Nordafricani.
- C) È un vento di sud-ovest ed ha scarsa intensità.

008. Quante volte è presente nel gruppo numerico che segue la sequenza 176?

3490829831769011231765989087864247347845176591764176612561

- A) 5.
- B) 9.
- C) 4.

009. Nel Parco Nazionale del Gran Paradiso, la fauna più rappresentativa è costituita da stambecchi e aquile. Ponendo per ipotesi che nel Parco si possano contare, per le suddette specie di animali, in totale 40 teste e 100 zampe, quanti sono rispettivamente gli stambecchi e le aquile?

- A) 20 e 20.
- B) 10 e 30.
- C) 25 e 15.

010. L'estensione .DOC identifica un file utilizzato dall'applicazione....

- A) Word.
- B) Access.
- C) Excel.

011. Quale dei numeri seguenti integra correttamente la serie:

21 - 28 - 50 - 57 - ..?.. - 86 - 108

- A) 95.
- B) 77.
- C) 79.

012. L'espressione «cambiare le carte in tavola» è ricollegabile al termine....

- A) Indizio.
- B) Inganno.
- C) Intuito.

013. Quale dei numeri proposti integra correttamente la serie che segue?

145 - 45 - 190 / 245 - 87 - ..?..

- A) 330.
- B) 334.
- C) 332.

014. Chi elegge il Presidente della Repubblica?

- A) Il Presidente della Repubblica uscente.
- B) Il Parlamento in seduta comune dei suoi membri.
- C) Il Presidente del Consiglio dei Ministri.

015. Oggi è il trecentoventiduesimo giorno dell'anno. Pertanto è il....

- A) 12 Ottobre.
- B) 16 Novembre.
- C) 18 Novembre.


016. Gli anfibi sono vertebrati capaci di vivere sia nell'acqua che sulla terraferma. È un esempio di anfibio....

- A) La tartaruga.
- B) La foca.
- C) La rana.

ESTRATTA

ORL 12.30

X 

X 

017. Quale dei termini proposti, inserito tra le parentesi, assume un significato associabile sia al termine che precede che a quello che segue:

Impegno () Guarnizione

- A) Disinteresse.
- B) Applicazione.
- C) Trascuratezza.

018. BISUNTO sta a SUDICIO come

- A) BISACCIA sta a SACCA.
- B) AFFRANTO sta a VIGOROSO.
- C) CONCULCARE sta a RISPETTARE.

019. Si osservi il testo che segue: «Non reagite in modo esagerato a una involontaria invasione della vostra privacy. Sforzatevi di essere sempre tolleranti e comprensivi.» Esso contiene....

- A) 15 vocali «a».
- B) 17 vocali «e».
- C) 12 vocali «i».

020. Continuare la sequenza: AGEVOLE, FATTIBILE, ...

- A) MANEGGEVOLE, CONGENERE.
- B) REALIZZABILE, ESEGUIBILE.
- C) AFFINE, INESPLICABILE.

021. Posto che a ciascuna lettera dell'alfabeto italiano (A, B, C, ...) corrisponde un numero secondo la sequenza 1, 2, 3, ..., quale è il risultato della seguente espressione?

$$T - (G \times B) + (E \times D) =$$

- A) 28.
- B) 24.
- C) 72.

022. Se MIAGOLIO sta a GATTO, allora è logico che MUGGHIO stia a....

- A) TORDO.
- B) BUE.
- C) TACCHINO.

023. L'antivirus è....

- A) Un programma.
- B) Una periferica.
- C) Un dispositivo Hardware.

024. Quali delle cifre proposte devono sostituire in sequenza gli asterischi perché i due numeri siano divisibili per tre?

$$1) 89567* \quad 2) 76571*$$

- A) 7 - 4.
- B) 2 - 1.
- C) 5 - 4.

025. In un ufficio, il divano sta tra la scrivania del direttore e la libreria. La scrivania del direttore si trova tra la libreria e il tavolo delle riunioni. Conseguentemente....

- A) La libreria è più vicina al tavolo delle riunioni che al divano.
- B) Il divano si trova fra la scrivania del direttore e il tavolo delle riunioni.
- C) Il divano è più vicino alla scrivania del direttore che al tavolo delle riunioni.

026. In una pista ciclabile su di un cartello segnaletico si legge «in caso di pioggia pista non ciclabile». Se la frase letta è vera allora si può asserire con sicurezza che....

- A) Nel solo caso di pioggia se si percorre la pista ciclabile, bisogna immediatamente allontanarsi.
- B) In caso di pioggia la pista è sicuramente non ciclabile.
- C) Solo se piove la pista è non ciclabile.

027. L'aspetto del paesaggio è determinato dal tipo di roccia presente e dalle azioni di modellamento che si succedono nel tempo. Il carsismo...

- A) È una forma di erosione dovuta esclusivamente alla forza dei venti.
- B) È una forma di erosione di tipo chimico provocata dall'acqua piovana sulle rocce calcaree.
- C) Non è una forma di erosione.

028. In un giardino botanico vi sono complessivamente 84 piante tra cactacee, euforbiacee e lauracee, 14 in ogni settore; 6 di ogni settore sono lauracee. Quante sono complessivamente le cactacee e le euforbiacee?

- A) 38.
- B) 34.
- C) 48.

029. In quale dei seguenti numeri la somma delle cifre dà il risultato maggiore?

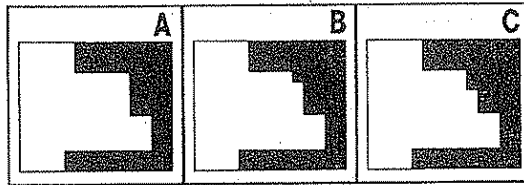
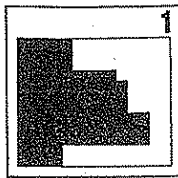
- A) 96643264.
- B) 89054895.
- C) 43290904.

030. Quale dei seguenti termini, sostituito ai puntini, forma parole di senso compiuto?

MA(.) - (..)GENO

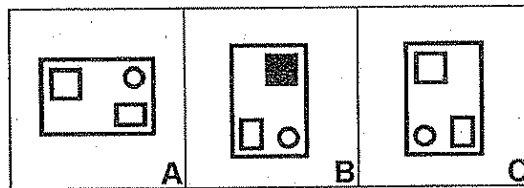
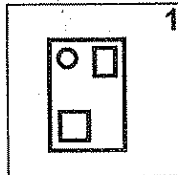
- A) PARA.
- B) ARIO.
- C) ESTRO.

031. Quale dei disegni proposti (A, B, C) integra il disegno di base (I) formando un rettangolo completamente annerito e senza sovrapposizioni?




- A) Il disegno indicato con la lettera B.
- B) Il disegno indicato con la lettera C.
- C) Il disegno indicato con la lettera A.

032. Il rettangolo contenuto nel box contrassegnato con il numero 1, ribaltato e ruotato, è riproposto con tali caratteristiche nel box contrassegnato....




- A) Con la lettera A.
- B) Con la lettera B.
- C) Con la lettera C.

033. Si osservino i primi otto disegni proposti, il nono mancante è....



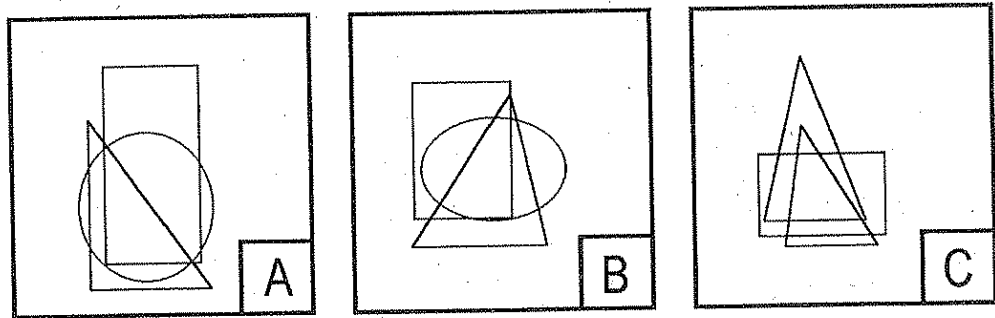
- A) Riportato nel box B.
- B) Riportato nel box C.
- C) Riportato nel box A.

034. Quale tra le figure A, B e C è corretto inserire come quarto termine della proporzione che segue?



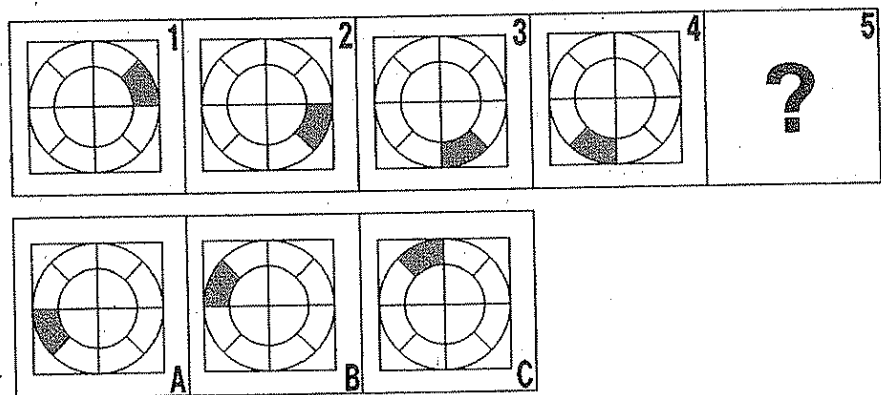
- A) La figura C.
- B) La figura A.
- C) La figura B.

035. Quale tra le figure A, B e C è corretto eliminare perché estranea al gruppo?



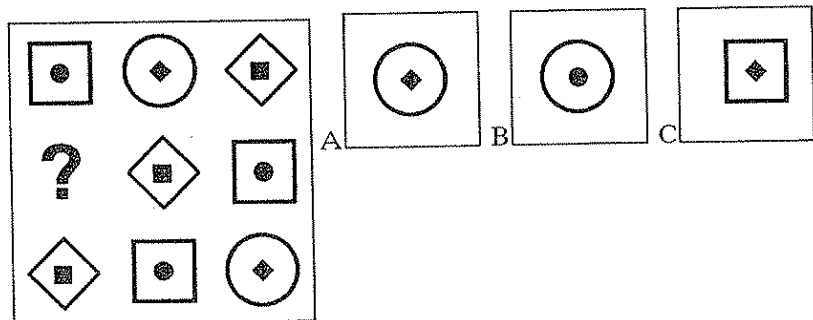
- A) La figura C.
- B) La figura B.
- C) La figura A.

036. Uno solo dei disegni contrassegnati con lettere costituisce il logico completamento della serie di disegni numerata da 1 a 5. Quale?



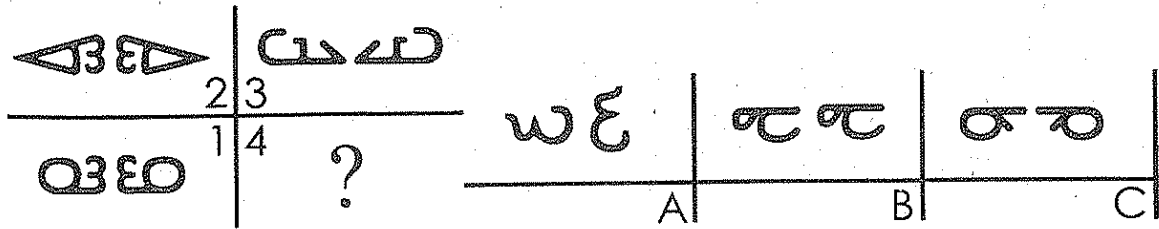
- A) Il disegno indicato con la lettera B.
- B) Il disegno indicato con la lettera C.
- C) Il disegno indicato con la lettera A.

037. Quale figura integra correttamente la serie?



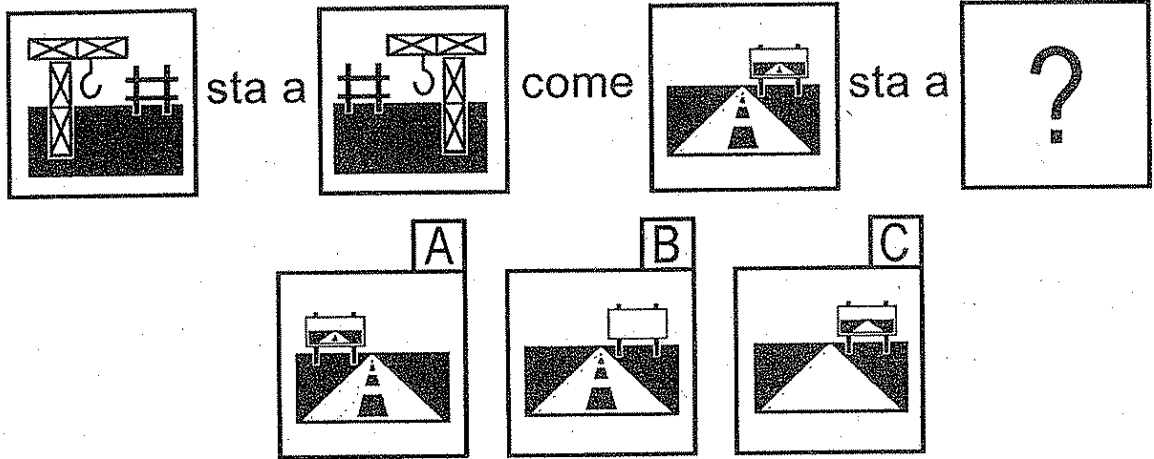
- A) La figura C.
- B) La figura A.
- C) La figura B.

038. La struttura a sinistra trova logico completamente nell'elemento che nella struttura a destra è...



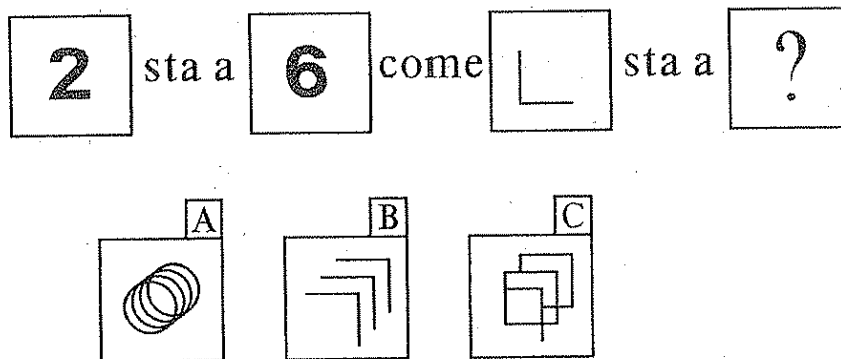
- A) In posizione B.
- B) In posizione C.
- C) In posizione A.

039. Quale tra le figure proposte integra logicamente la proporzione che segue?



- A) La figura indicata con la lettera C.
- B) La figura indicata con la lettera B.
- C) La figura indicata con la lettera A.

040. Quale tra le figure proposte integra logicamente la proporzione che segue?



- A) La figura C.
- B) La figura B.
- C) La figura A.

REGIONE AUTONOMA FRIULI VENEZIA GIULIA

CATEGORIA FA - AREA FORESTALE - P.E. 1

CORRISPONDENZA RISPOSTE ESATTE

BATTERIA 3

DOMANDA	ESATTA
001	C
002	A
003	A
004	A
005	C
006	A
007	A
008	A
009	B
010	A
011	C
012	B
013	C
014	B
015	C
016	C
017	B
018	A
019	C
020	B
021	B
022	B
023	A
024	A
025	C
026	B
027	B
028	C
029	B
030	C
031	A
032	C
033	B
034	B
035	A
036	C
037	B
038	B
039	C
040	B

001. Quale tra i seguenti è un programma per la gestione della posta elettronica?

- A) Power Point.
- B) Post it.
- C) Microsoft Outlook Express.

002. Nel Parco Nazionale degli Abruzzi si trovano scoiattoli ed aironi cinerini per un totale di 80 teste e 240 zampe. Quanti scoiattoli e quanti aironi cinerini si trovano nel Parco?

- A) Trenta scoiattoli e cinquanta aironi cinerini.
- B) Quaranta scoiattoli e quaranta aironi cinerini.
- C) Sessanta scoiattoli e venti aironi cinerini.

003. Le foglie dell'Abete bianco sono....

- A) Aghi spessi, piatti, smarginati all'apice.
- B) Con lamina coriacea, lucida, cuoriforme-sagitata.
- C) Alterne e lisce, che avvolgono con una guaina lo stelo.

004. Con l'espressione "semestre bianco" si indicano....

- A) I primi sei mesi di attività del Governo.
- B) Gli ultimi sei mesi del mandato del Presidente della Repubblica.
- C) I primi sei mesi dall'elezione delle nuove Camere.

005. Quale dei seguenti termini, sostituito ai puntini, forma parole di senso compiuto?

ECOT(.) - (..)TECA

- A) IPO.
- B) ESTRO.
- C) PARA.

006. Utilizzando l'operazione di copia e incolla di Windows, dove si trovano i dati copiati?

- A) Nella cartella Documenti.
- B) Nel Desktop.
- C) Negli Appunti.

007. Continuare la sequenza: IMPORTANTE, RILEVANTE, ...

- A) SALIENTE, CONVENZIONALE.
- B) RIMARCHEVOLE, GLABRO.
- C) RAGGUARDEVOLE, RIMARCABILE.

008. Enea è nato prima di Fiorello, il quale è nato prima di Giacomo. Anche Ignazio è nato prima di Giacomo. Pertanto....

- A) È certo che Fiorello sia più anziano di Ignazio.
- B) È possibile che Enea sia più giovane di Giacomo.
- C) È certo che Ignazio sia più anziano di Giacomo.

009. Se RUGGITO sta a LEONE, allora è logico che BRAMITO stia a.....

- A) SERPENTE.
- B) CERVO.
- C) GATTO.

010. Si osservi il testo che segue: «Dedicatevi con maggiore attenzione alle attività domestiche, oggi. Nel fare certe cose, infatti, non potete permettervi di commettere neanche il più piccolo errore.» Esso contiene....

- A) Più di 25 parole.
- B) 15 vocali «i».
- C) 9 segni di punteggiatura.

011. La principale causa della formazione dei venti è la differenza di temperatura nelle diverse zone della terra. Ad esempio, lo scirocco....

- A) Proviene dal deserto del Sahara e quando attraversa le coste settentrionali dell'Africa è caldo e secco, ma passando sul Mediterraneo si carica di umidità, raggiungendo l'Italia come vento caldo e umido, portatore di pioggia.
- B) Proviene dalla Penisola Scandinava ed è il responsabile di repentini sbalzi termici e ondate di freddo improvviso accompagnate da fenomeni quali bufere di neve.
- C) Scende dalla valle del Rodano e giunge fino alle coste occidentali della Sardegna ed è un vento invernale particolarmente violento.

012. L'espressione «procedere a marce forzate» è ricollegabile al termine....

- A) Rimprovero.
- B) Assiduità.
- C) Fretta.

013. Qual è la caratteristica fondamentale che permette di distinguere i vertebrati dagli invertebrati?

- A) Il deporre uova.
- B) L'ambiente acquatico.
- C) La colonna vertebrale o spina dorsale.

014. Posto che a ciascuna lettera dell'alfabeto italiano (A, B, C, ...) corrisponde un numero secondo la sequenza 1, 2, 3, ..., quale è il risultato della seguente espressione?

$(D \times H) - (F \times E) + L =$

- A) 12.
- B) 2.
- C) 14.

015. Con il termine dissesto idrogeologico si intende l'insieme di tutte le catastrofi, come le frane e le inondazioni, dovute all'azione erosiva dell'acqua e alla natura del terreno. Le sue cause....

- A) Sono molteplici e complesse.
- B) Sono dovute esclusivamente a comportamenti umani sconsiderati (disboscamento, incendi dolosi,...).
- C) Sono naturali dovute esclusivamente ad agenti atmosferici.

NON ESTRATTA

X *Uscione*
Regione Autonoma Friuli Venezia Giulia

X *Joseph*
- pag. 1 -

X *Edoardo*

Batteria - 4

016. Cos'è uno scanner?

- A) Un'unità hardware di stampa vettoriale.
- B) Un'unità hardware per la modulazione e demodulazione di un segnale digitale su una portante analogica.
- C) Un'unità hardware per l'acquisizione di immagini e/o documenti.

017. Quante volte è presente nel gruppo numerico che segue la sequenza 329?

3490832929832911233295989087863294247347845439593294329612561

- A) 7.
- B) 6.
- C) 11.

018. BACHECA sta a MOSTRA come

- A) BERNESCO sta a BURLESCO.
- B) ACCORATO sta a GAIO.
- C) COATTIVO sta a SPONTANEO.

019. In ossequio al principio della divisione dei poteri, previsto dal nostro ordinamento, è corretto affermare che....

- A) La Magistratura esercita il potere legislativo.
- B) Il Parlamento esercita il potere giudiziario.
- C) Il Governo esercita il potere esecutivo.

020. Quale dei termini proposti, inserito tra le parentesi, assume un significato associabile sia al termine che precede che a quello che segue:

Nebbia () Gioco

- A) Foscia.
- B) Banco.
- C) Diletto.

021. Sulla scrivania del dirigente il telefono sta tra il porta penne e l'agenda. Il porta penne si trova tra l'agenda ed il fax. Conseguentemente....

- A) L'agenda si trova tra il fax ed il telefono.
- B) Il fax è più vicino all'agenda che al telefono.
- C) Il telefono è più vicino al porta penne che al fax.

022. Quale numero integra correttamente la serie:

01234 - ..?.. - 23456 - 34567

- A) 12344.
- B) 12355.
- C) 12345.

023. Chi promulga le leggi dello Stato?

- A) Il Presidente del Senato.
- B) Il Parlamento.
- C) Il Presidente della Repubblica.

024. Quale dei numeri proposti integra correttamente la serie che segue?

124 - 84 - 208 / 357 - 32 - ..?..

- A) 389.
- B) 387.
- C) 391.

025. Quali delle cifre proposte devono sostituire in sequenza gli asterischi perché i due numeri siano divisibili per tre?

1) 47327* 2) 84322*

- A) 4 - 4.
- B) 4 - 8.
- C) 2 - 5.

026. «Per far fare i compiti al fratellino, è necessario che Maria rimanga in casa tutto il giorno». Se la precedente affermazione è vera allora è anche vero che....

- A) Se Maria non è in casa, il fratellino non fa i compiti.
- B) Quando il fratellino termina i compiti Maria esce di casa.
- C) Maria rimane in casa tutto il giorno solo se il fratellino deve fare i compiti.

027. Quale dei numeri seguenti integra correttamente la serie:

17 - 24 - 37 - ..?.. - 57 - 64 - 77

- A) 42.
- B) 44.
- C) 37.

028. Su un tavolo da riunioni vi sono 60 penne (nere, blu, rosse), 12 per contenitore; 5 per ogni contenitore sono nere. Quante sono le penne di colore blu e rosso?

- A) 35.
- B) 28.
- C) 45.

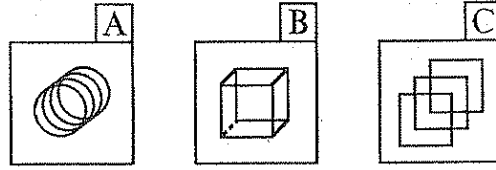
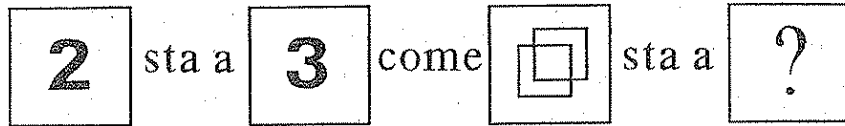
029. In quale dei seguenti numeri la somma delle cifre dà il risultato maggiore?

- A) 97436298.
- B) 69816101.
- C) 71246120.

030. Dall'inizio dell'anno sono trascorsi 135 giorni. In che data siamo?

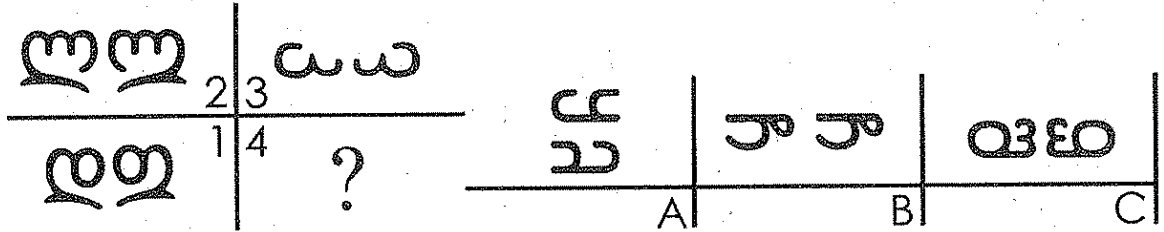
- A) 19 Maggio.
- B) 15 Maggio.
- C) 17 Giugno.

031. Quale tra le figure proposte integra logicamente la proporzione che segue?



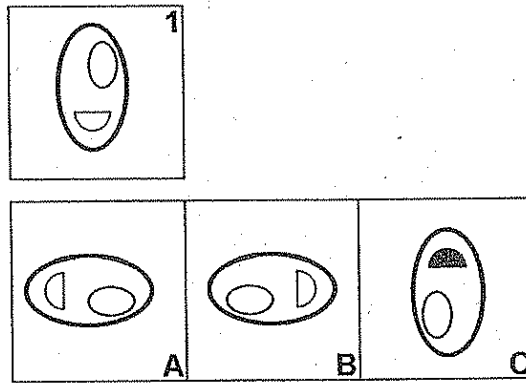
- A) La figura B.
- B) La figura A.
- C) La figura C.

032. La struttura a sinistra trova logico completamente nell'elemento che nella struttura a destra è...



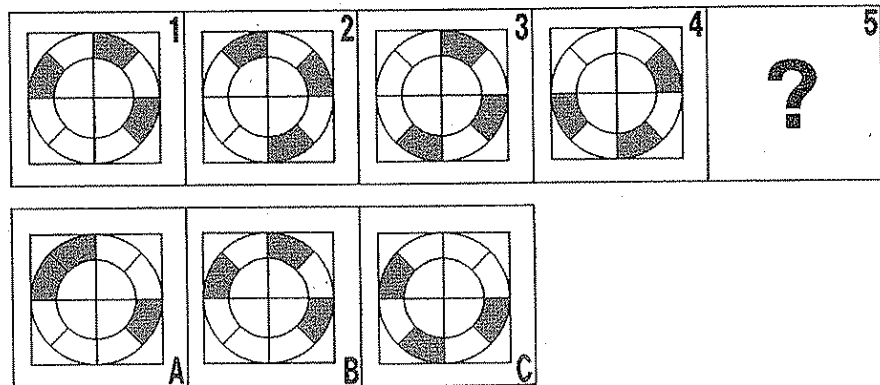
- A) In posizione C.
- B) In posizione A.
- C) In posizione B.

033. L'ellisse contenuta nel box contrassegnato con il numero 1, ribaltata e ruotata, è riproposta con tali caratteristiche nel box contrassegnato....



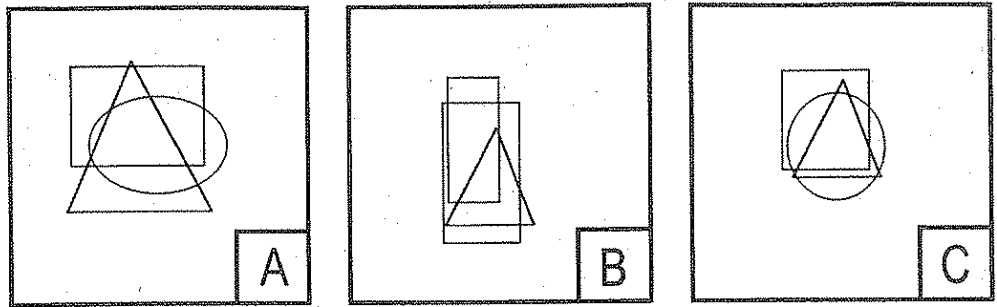
- A) Con la lettera A.
- B) Con la lettera C.
- C) Con la lettera B.

034. Uno solo dei disegni contrassegnati con lettere costituisce il logico completamento della serie di disegni numerata da 1 a 5. Quale?



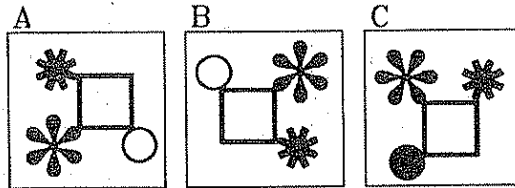

- A) Il disegno indicato con la lettera A.
- B) Il disegno indicato con la lettera C.
- C) Il disegno indicato con la lettera B.

035. Quale tra le figure A, B e C è corretto eliminare perché estranea al gruppo?



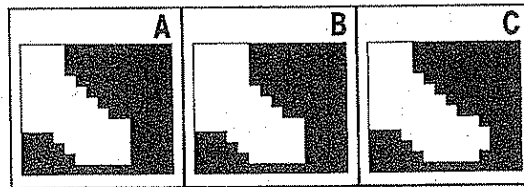

- A) La figura C.
- B) La figura A.
- C) La figura B.

036. Individuare fra le figure proposte quella che è logico inserire quale quarto termine della proporzione data.



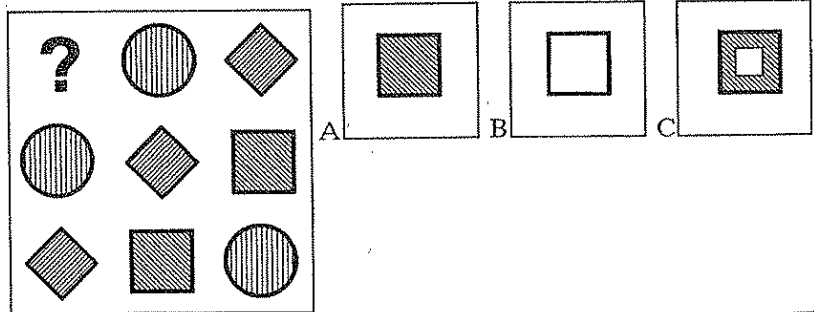
- A) La figura indicata con la lettera B.
- B) La figura indicata con la lettera C.
- C) La figura indicata con la lettera A.

037. Quale dei disegni proposti (A, B, C) integra il disegno di base (1) formando un rettangolo completamente annerito e senza sovrapposizioni?




- A) Il disegno indicato con la lettera C.
- B) Il disegno indicato con la lettera B.
- C) Il disegno indicato con la lettera A.

038. Quale tra i disegni proposti è logico inserire al posto del «?» ?



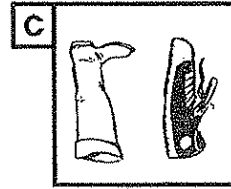
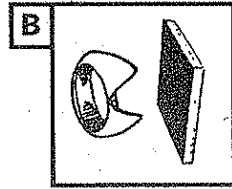
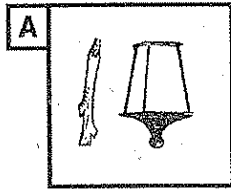

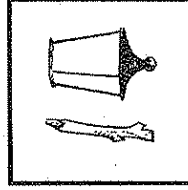

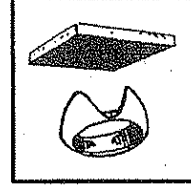
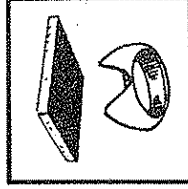



- A) Il disegno A.
- B) Il disegno C.
- C) Il disegno B.

039. Quale tra le figure proposte integra logicamente la proporzione che segue?



- A) La figura C.
- B) La figura B.
- C) La figura A.

640. Si osservino i primi otto disegni proposti, il nono mancante è...



- A) Riportato nel box A.
- B) Riportato nel box C.
- C) Riportato nel box B.

REGIONE AUTONOMA FRIULI VENEZIA GIULIA

CATEGORIA FA - AREA FORESTALE - P.E. 1

CORRISPONDENZA RISPOSTE ESATTE

BATTERIA 4

DOMANDA	ESATTA
001	C
002	B
003	A
004	B
005	A
006	C
007	C
008	C
009	B
010	B
011	A
012	C
013	C
014	A
015	A
016	C
017	B
018	A
019	C
020	B
021	C
022	C
023	C
024	A
025	B
026	A
027	B
028	A
029	A
030	B
031	C
032	A
033	C
034	B
035	C
036	A
037	A
038	A
039	A
040	A

001. La Farnesina è la sede....

- A) Del Ministero degli Affari Esteri.
- B) Della Presidenza del Consiglio dei Ministri.
- C) Del Ministero dell'Interno.

002. In Microsoft Word, per eliminare un testo dopo averlo selezionato si può utilizzare la combinazione di tasti....

- A) CTRL + %
- B) CTRL + X
- C) CTRL + *

003. Quali delle cifre proposte devono sostituire in sequenza gli asterischi perché i due numeri siano divisibili per tre?

1) 81974* 2) 78874*

- A) 4 - 1.
- B) 1 - 5.
- C) 8 - 5.

004. Se SQUITTO sta a TOPO, allora è logico che BARRITO stia a....

- A) ELEFANTE.
- B) TACCHINO.
- C) CORVO.

005. Al termine dell'anno mancano 322 giorni. Oggi pertanto è il....

- A) 12 Marzo.
- B) 16 Febbraio.
- C) 12 Febbraio.

006. Se Davide è più attento di Mino e Gino è più distratto di Davide....

- A) Sicuramente i tre uomini sono ugualmente distratti.
- B) Non è escluso che Mino sia più distratto di Gino.
- C) Mino potrebbe essere più attento di Gino e di Davide.

007. «Queste matite sono di Patrizia». Se l'affermazione è vera, quale delle affermazioni che seguono è sicuramente vera?

- A) A Patrizia piacciono le matite.
- B) Patrizia per scrivere usa soltanto matite.
- C) Patrizia possiede delle matite.

008. Si osservi il testo che segue: «Non fate l'errore di credere che stile e apparenza non contino nulla. Al contrario, gli abiti che indosserete e il vostro comportamento avranno un'importanza risolutiva.» Esso contiene...

- A) 30 parole.
- B) 14 vocali «a».
- C) 12 vocali «e».

009. Luca abita tra lo stadio e la casa di Mario. Lo stadio si trova tra la casa di Mario e la stazione ferroviaria. Posso affermare che....

- A) La casa di Mario è più vicina alla stazione che all'abitazione di Luca.
- B) Luca abita più vicino allo stadio che alla casa di Mario.
- C) Luca abita più vicino allo stadio che alla stazione ferroviaria.

010. Quale dei numeri seguenti integra correttamente la serie:

15 - 24 - 35 - ..?.. - 55 - 64 - 75

- A) 39.
- B) 47.
- C) 44.

011. Le rocce che compongono la superficie terrestre sono in continua trasformazione: si alterano, si sciolgono, si frantumano e si disgregano. È il fenomeno di erosione, il quale modella dall'esterno il paesaggio originario. È una forma di erosione...

- A) La desertificazione.
- B) Il disboscamento.
- C) Il carsismo.

012. Continuare la sequenza: PRESENTIMENTO, PRESAGIO, ...

- A) PREAVVERTIMENTO, TITUBANZA.
- B) SENTORE, SENSAZIONE.
- C) INTUIZIONE, CERTEZZA.

013. Un bouquet di fiori di campo è composto di margherite, rose canine e primule, per un totale di 72 fiori; 4 di ogni dozzina sono margherite. Quante sono complessivamente le rose canine e le primule?

- A) 28.
- B) 32.
- C) 48.

014. Quale dei numeri proposti integra correttamente la serie che segue?

158 - 86 - 244 / 245 - 24 - ..?..

- A) 271.
- B) 267.
- C) 269.

015. Quale dei seguenti termini, sostituito ai puntini, forma parole di senso compiuto?

ST(..) - (..)CALORICO

- A) IPO.
- B) PARA.
- C) ESTRO.

ESTRATTA

ORE

08:30

X *Famodauer*

X *Carver Emen*

X *Giorgio Capp*

016. Nel Parco Nazionale del Circeo, tra le varie specie di animali, vi sono lepri e falchi di palude. Ponendo per ipotesi che si possano contare 70 animali delle specie suddette con 190 zampe, quanti sono le lepri ed i falchi di palude?

- A) 45 lepri e 25 falchi di palude.
- B) 25 lepri e 45 falchi di palude.
- C) 20 lepri e 50 falchi di palude.

017. È un vento tipico della Zona del Mediterraneo, proviene dal deserto del Sahara e quando attraversa le coste settentrionali dell'Africa è caldo e secco, ma passando sul Mediterraneo si carica di umidità, raggiungendo l'Italia come vento caldo e umido, portatore di pioggia, si tratta....

- A) Della bora.
- B) Dello scirocco.
- C) Della tramontana.

018. In Microsoft Outlook, la presenza di una "graffetta" in corrispondenza di un messaggio....

- A) Indica che al messaggio è allegato un file.
- B) Indica che il messaggio è stato spedito da un amico.
- C) Indica che il messaggio contiene un virus.

019. In quale dei seguenti dispositivi viene archiviato in modo permanente un file?

- A) RAM.
- B) Cache.
- C) Hard Disk.

020. BACILE sta a CATINO come

- A) ACCORARE sta a ALLIETARE.
- B) BARDA sta a ARMATURA.
- C) COARTARE sta a LIBERARE.

021. Come definisce il voto la Costituzione italiana?

- A) Una opportunità.
- B) Un dovere civico.
- C) Un obbligo civico.

022. La Ginestra....

- A) È il più bel fiore delle spiagge del Mediterraneo, grande e bianco e leggermente profumato, con pianta bulbosa dalle foglie piane, larghe, verdi e opache.
- B) Sembra un piccolo cipresso, quasi sempre in forma arbustiva, da 1 a 4 metri e più raramente in forma arborea, dai 3 agli 8 metri.
- C) È un cespuglio piccolo o medio, che può raggiungere i 3 metri.

023. Posto che a ciascuna lettera dell'alfabeto italiano (A, B, C, ...) corrisponde un numero secondo la sequenza 1, 2, 3, ..., quale è il risultato della seguente espressione?

$$Z - L + D + (F : B) =$$

- A) 21.
- B) 52.
- C) 18.

024. In quale dei seguenti numeri la somma delle cifre dà il risultato maggiore?

- A) 43724985.
- B) 80975970.
- C) 98098984.

025. Osservando gli scheletri degli animali si può ricavare un criterio per suddividere il regno animale in due gruppi: i vertebrati e gli invertebrati. Fanno parte dei vertebrati....

- A) I plateminti (vermi piatti).
- B) Gli uccelli.
- C) I molluschi.

026. Quale differenza c'è tra elettorato attivo ed elettorato passivo?

- A) Il primo è esercitato dalla popolazione italiana e residente in Italia il secondo è esercitato dagli italiani all'estero.
- B) Nel primo caso il cittadino è elettore nel secondo caso il cittadino è eletto.
- C) Il requisito dell'età.

027. Quale numero integra correttamente la serie:

$$01234 - 12345 - \dots - 34567$$

- A) 23455.
- B) 23456.
- C) 23466.

028. Quale dei termini proposti, inserito tra le parentesi, assume un significato associabile sia al termine che precede che a quello che segue:

$$\text{Proprietà () Affetto}$$

- A) Bene.
- B) Smanceria.
- C) Uso.

029. Quante volte è presente nel gruppo numerico che segue la sequenza 631?

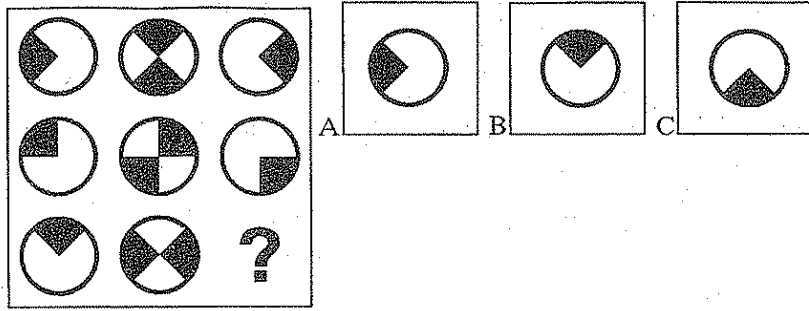
$$3490863129836319011236315989087631866314247347845631596314631612561$$

- A) 8.
- B) 14.
- C) 9.

030. L'espressione «non avere un minuto da perdere» è ricollegabile al termine....

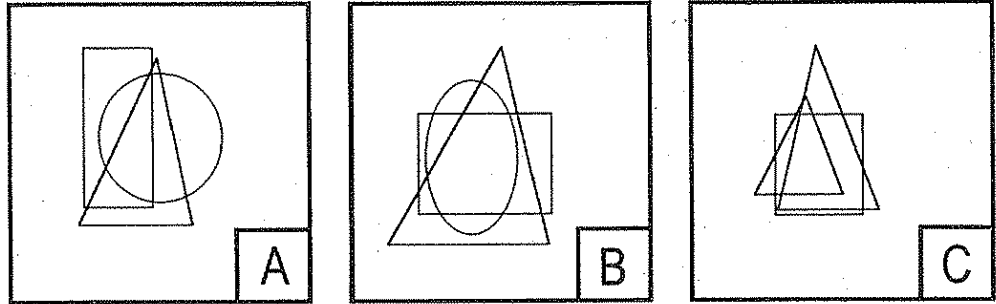
- A) Persistenza.
- B) Fretta.
- C) Pazienza.

031. L'ultimo elemento della serie proposta è quello indicato con....



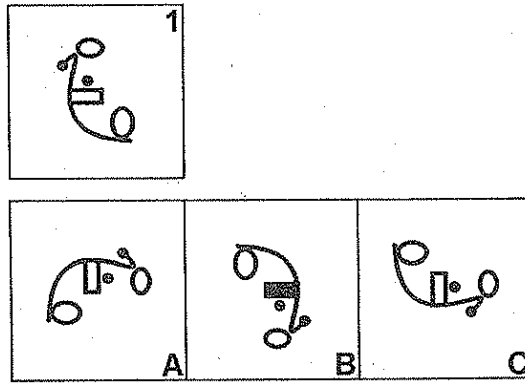
- A) La lettera A.
- B) La lettera C.
- C) La lettera B.

032. Quale tra le figure A, B e C è corretto eliminare perché estranea al gruppo?



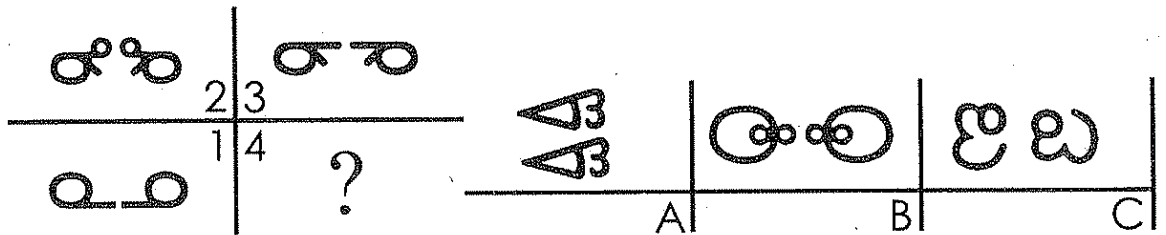
- A) La figura C.
- B) La figura B.
- C) La figura A.

033. Il disegno del box 1, ribaltato e ruotato, è riproposto con tali caratteristiche nel box....



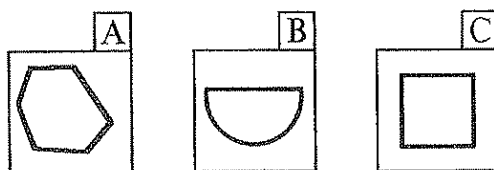
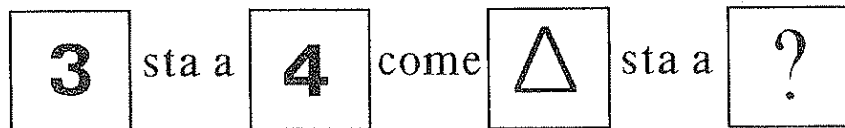
- A) Indicato con la lettera A.
- B) Indicato con la lettera B.
- C) Indicato con la lettera C.

034. La struttura a sinistra trova logico completamento nell'elemento che nella struttura a destra è....




- A) In posizione C.
- B) In posizione B.
- C) In posizione A.

035. Quale tra le figure proposte integra logicamente la proporzione che segue?



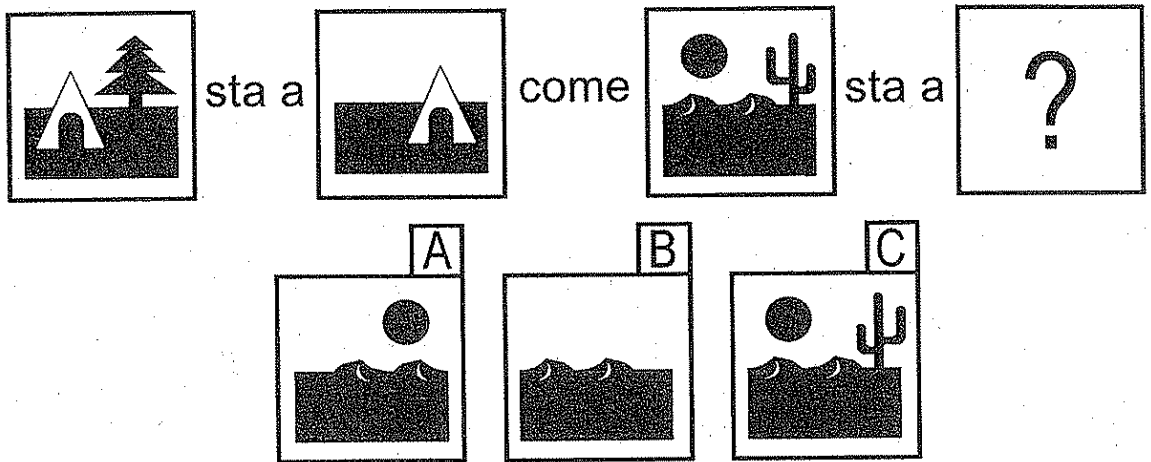
- A) La figura B.
- B) La figura C.
- C) La figura A.

036. Quale tra le figure A, B e C è corretto inserire come quarto termine della proporzione che segue?



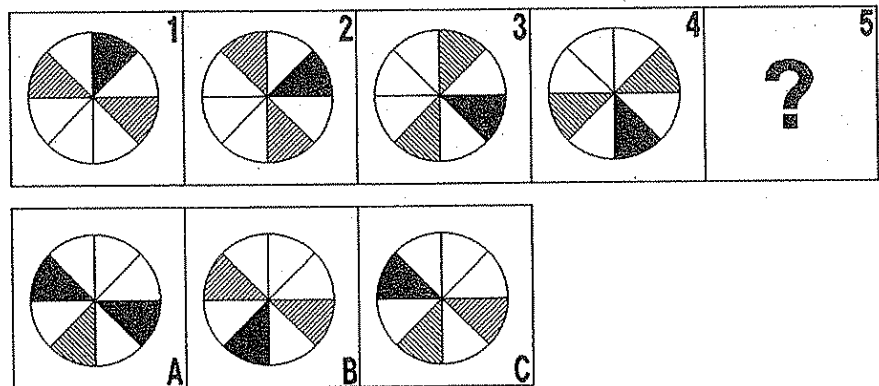
- A) La figura C.
- B) La figura B.
- C) La figura A.

037. Quale tra le figure A, B e C è corretto inserire come quarto termine della proporzione che segue?



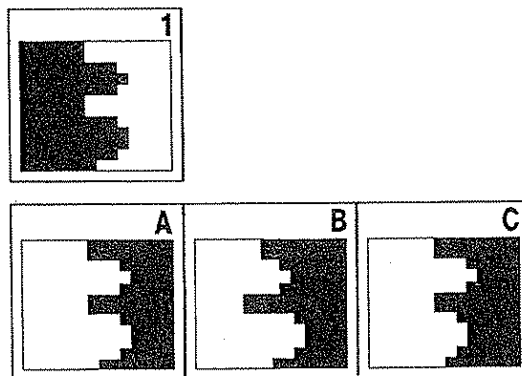
- A) La figura C.
- B) La figura A.
- C) La figura B.

038. Uno solo dei disegni contrassegnati con lettere costituisce il logico completamento della serie di disegni numerata da 1 a 5. Quale?



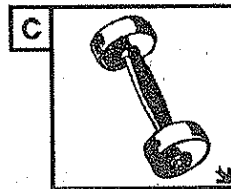
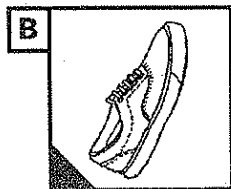
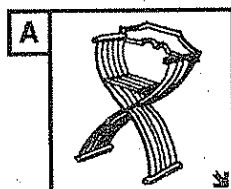





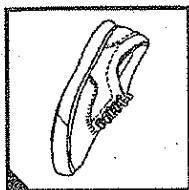
- A) Il disegno indicato con la lettera A.
- B) Il disegno indicato con la lettera B.
- C) Il disegno indicato con la lettera C.

039. Quale dei disegni proposti (A, B, C) integra il disegno di base (1) formando un rettangolo completamente annerito e senza sovrapposizioni?



- A) Il disegno indicato con la lettera A.
- B) Il disegno indicato con la lettera C.
- C) Il disegno indicato con la lettera B.

040. Si osservino i primi otto disegni proposti, il nono mancante è....



- a) Riportato nel box C.
- b) Riportato nel box B.
- c) Riportato nel box A.

REGIONE AUTONOMA FRIULI VENEZIA GIULIA

CATEGORIA FA - AREA FORESTALE - P.E. 1

CORRISPONDENZA RISPOSTE ESATTE

BATTERIA 2

DOMANDA	ESATTA
001	A
002	B
003	B
004	A
005	C
006	B
007	C
008	B
009	C
010	C
011	C
012	B
013	C
014	C
015	A
016	B
017	B
018	A
019	C
020	B
021	B
022	C
023	C
024	C
025	B
026	B
027	B
028	A
029	A
030	B
031	B
032	A
033	C
034	B
035	B
036	A
037	B
038	B
039	A
040	A

001. La classificazione degli animali, come quella delle piante, si basa sulla loro storia evolutiva. Perciò essi vengono riuniti in vari gruppi, dai più semplici e primitivi ai più complessi ed evoluti. Dei seguenti sono meno evoluti gli appartenenti al gruppo....

- A) Dei molluschi.
- B) Dei mammiferi.
- C) Degli uccelli.

002. Quale delle seguenti piante presenta pigne erette sui rami?

- A) Mirto.
- B) Leccio.
- C) Abete bianco.

003. Il vento è un movimento, in genere orizzontale, di una massa d'aria rispetto alla superficie terrestre. Tra i venti tipici del mediterraneo, la bora....

- A) È un vento di nord-est molto forte e freddo, prevalentemente invernale.
- B) È un vento invernale particolarmente violento, proveniente da nord-ovest. Scende dalla valle del Rodano e giunge fino alle coste occidentali della Sardegna.
- C) È un vento proveniente dal deserto del Sahara. È spesso portatore di pioggia e spira in tutte le stagioni.

004. In una pineta alcuni studiosi osservano il comportamento di cuculi e scoiattoli. Il loro campione di studio conta 50 teste e 130 zampe. Quanti cuculi e quanti scoiattoli sono presenti nella pineta?

- A) Trenta cuculi e venti scoiattoli.
- B) Trentacinque cuculi e quindici scoiattoli.
- C) Quaranta cuculi e dieci scoiattoli.

005. Con il termine dissesto idrogeologico....

- A) Si intendono i fenomeni atmosferici a regime temporalesco.
- B) Si intende l'insieme di tutte le catastrofi, come le frane e le inondazioni, dovute all'azione erosiva dell'acqua e alla natura del terreno.
- C) Si intendono esclusivamente gli interventi dell'uomo volti a modificare l'assetto del territorio (bonifiche, ecc.).

006. Un'enciclopedia è formata da 34 volumi, ciascuno di 12 fascicoli. Tre fascicoli di ogni volume sono aggiornamenti. Quanti fascicoli contiene l'enciclopedia esclusi gli aggiornamenti?

- A) 280.
- B) 306.
- C) 350.

007. Windows 98....

- A) È un applicativo scaduto dal '98 e quindi non più utilizzabile.
- B) È l'anno in cui Microsoft commercializzò il primo sistema operativo Windows.
- C) È un sistema operativo.

008. Sul tavolo, il vaso di fiori sta tra la bottiglia e l'oliera. La bottiglia si trova tra l'oliera e il pane. Conseguentemente....

- A) Il vaso di fiori si trova fra la bottiglia e il pane.
- B) Il vaso di fiori è più vicino alla bottiglia che al pane.
- C) L'oliera è più vicina al pane che al vaso di fiori.

009. «Luca raggiunge il suo posto di lavoro con la sua auto». Se l'affermazione è vera, quale delle affermazioni che seguono è sicuramente vera?

- A) A Luca piace guidare.
- B) Luca possiede un'automobile.
- C) Luca non viaggia mai in autobus.

010. Se Gerlando è più alto di Imeneo e Leandro è più basso di Gerlando....

- A) Leandro potrebbe essere più alto di Imeneo.
- B) Imeneo e Leandro hanno sicuramente la stessa altezza.
- C) Imeneo e Leandro non possono avere la stessa altezza.

011. L'espressione «darsi anima e corpo» è ricollegabile al termine....

- A) Impegno.
- B) Prudenza.
- C) Intenzione.

012. Indicare quale fra i seguenti siti Internet non è definibile come "motore di ricerca".

- A) Google.
- B) Microsoft.
- C) Yahoo.

013. Quale numero integra correttamente la serie:

12345 - 23456 - ...?.. - 45678

- A) 34577.
- B) 34566.
- C) 34567.

014. Quale dei seguenti termini, sostituito ai puntini, forma parole di senso compiuto?

MALD(.) - (.)SO

- A) ARIO.
- B) PARA.
- C) ESTRO.

015. In quale dei seguenti numeri la somma delle cifre dà il risultato maggiore?

- A) 82746501.
- B) 62462472.
- C) 65758717.

NON

ESTRATTO

015 12.30

x Virginia Nardone x

016. Le leggi della Repubblica italiana devono essere approvate....

- A) Solo dal Senato della Repubblica.
- B) Separatamente dalla Camera dei Deputati e dal Senato della Repubblica.
- C) Separatamente dal Parlamento e dal Governo della Repubblica.

017. Continuare la sequenza: REALIZZABILE, ESEGUIBILE, ...

- A) SUBITANEO, INEFFABILE.
- B) POSSIBILE, FATTIBILE.
- C) CONSIDEREVOLE, DIFFUSO.

018. Quale dei numeri seguenti integra correttamente la serie:

13 - 18 - 35 - ..?.. - 57 - 62 - 79

- A) 44.
- B) 39.
- C) 40.

019. Si osservi il testo che segue: «È essenziale, oggi, riuscire a rispettare tutti gli appuntamenti, anche se questo significherebbe rinunciare ad un molto atteso impegno privato.» Esso contiene....

- A) 17 vocali «o».
- B) 14 vocali «o».
- C) 20 parole.

020. Quante volte è presente nel gruppo numerico che segue la sequenza 379?

3490837929833799011233795989087379863794247347845379593794379612561

- A) 8.
- B) 9.
- C) 7.

021. Quale dei termini proposti, inserito tra le parentesi, assume un significato associabile sia al termine che precede che a quello che segue:

Gatto () Lana

- A) Angora.
- B) Siamese.
- C) Felino.

022. Se GUAITO sta a CANE, allora è logico che SQUITTIO stia a

- A) TOPO.
- B) MERLO.
- C) CORVO.

023. Palazzo Montecitorio è la sede....

- A) Del Ministero dell'Interno.
- B) Della Camera dei Deputati.
- C) Del Ministero della Difesa.

024. Quali delle cifre proposte devono sostituire in sequenza gli asterischi perché i due numeri siano divisibili per tre?

1) 97843* 2) 39437*

- A) 2 - 1.
- B) 7 - 8.
- C) 4 - 4.

025. Nel nostro ordinamento, l'esercizio del potere giudiziario è affidato....

- A) Alla magistratura.
- B) Al Parlamento.
- C) Alla Corte costituzionale.

026. Posto che a ciascuna lettera dell'alfabeto italiano (A, B, C, ...) corrisponde un numero secondo la sequenza 1, 2, 3, ..., quale è il risultato della seguente espressione?

$(G \times D) + (D \times H) - (F \times E) =$

- A) 5.
- B) 17.
- C) 30.

027. In Word, per mandare a capo un testo, come si deve procedere?

- A) Premendo il tasto "Invio".
- B) Premendo il tasto "Pause".
- C) Premendo il tasto "ALT".

028. Oggi è il 27 Marzo, pertanto è....

- A) Il settantaseiesimo giorno dell'anno.
- B) L'ottantesimo giorno dell'anno.
- C) L'ottantaseiesimo giorno dell'anno.

029. Quale dei numeri proposti integra correttamente la serie che segue?



259 - 47 - 306 / 284 - 65 - ..?..

- A) 349.
- B) 347.
- C) 351.

030. BAILAMME sta a FRASTUONO come

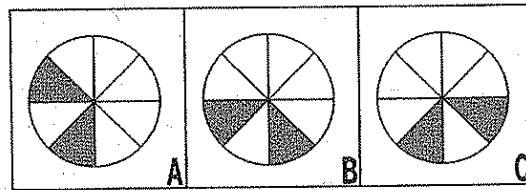
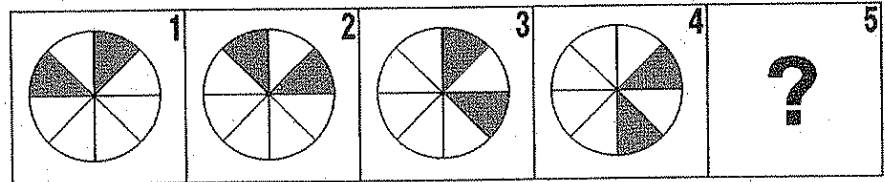
- A) BIECO sta a MINACCIOSO.
- B) COATTO sta a VOLONTARIO.
- C) ACRIMONIA sta a BONOMIA.

031. Individuare fra le figure proposte quella che è logico inserire quale quarto termine della proporzione data.



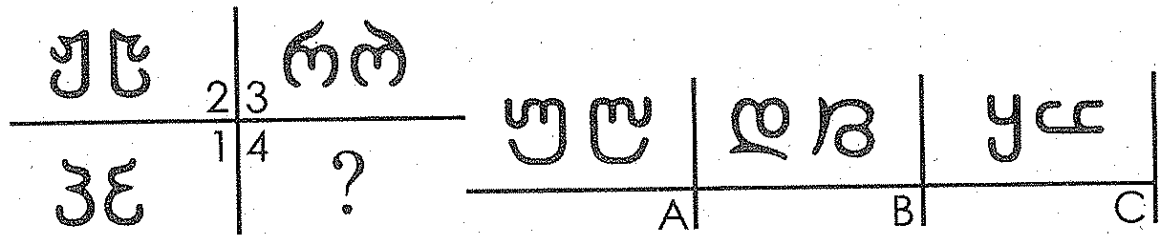
- A) La figura indicata con la lettera B.
- B) La figura indicata con la lettera A.
- C) La figura indicata con la lettera C.

032. Uno solo dei disegni contrassegnati con lettere costituisce il logico completamento della serie di disegni numerata da 1 a 5. Quale?



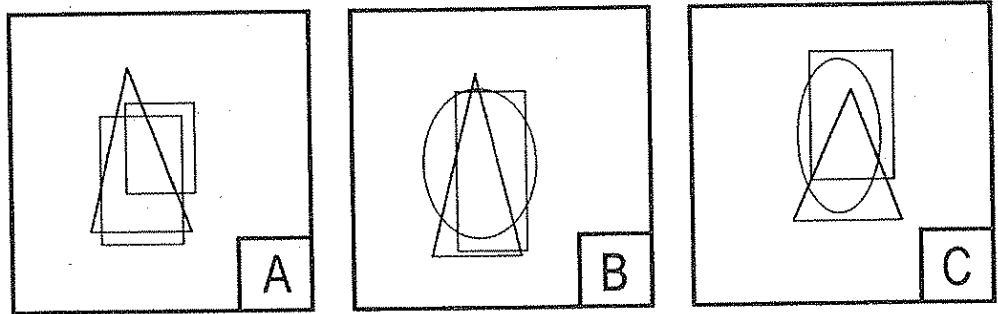
- A) Il disegno indicato con la lettera B.
- B) Il disegno indicato con la lettera C.
- C) Il disegno indicato con la lettera A.

033. La struttura a sinistra trova logico completamento nell'elemento che nella struttura a destra è...



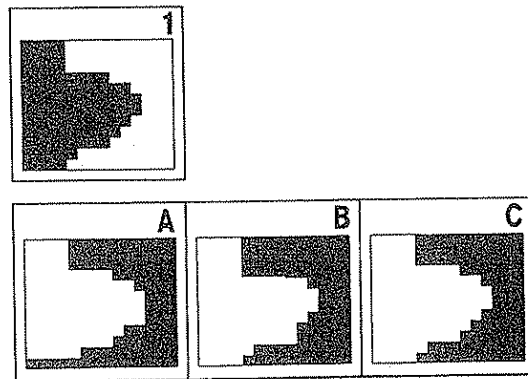
- A) In posizione A.
- B) In posizione B.
- C) In posizione C.

034. Quale tra le figure A, B e C è corretto eliminare perché estranea al gruppo?



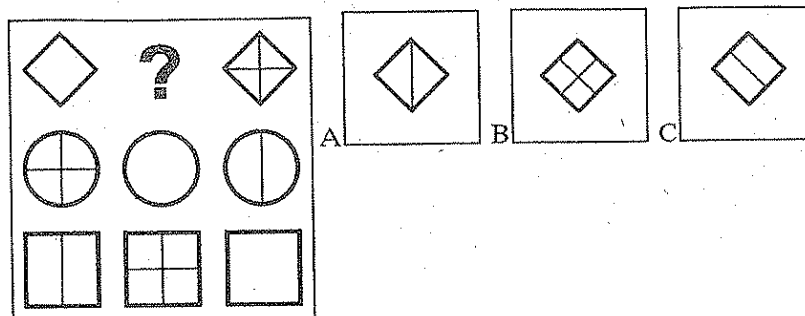
- A) La figura B.
- B) La figura C.
- C) La figura A.

035. Quale dei disegni proposti (A, B, C) integra il disegno di base (1) formando un rettangolo completamente annerito e senza sovrapposizioni?



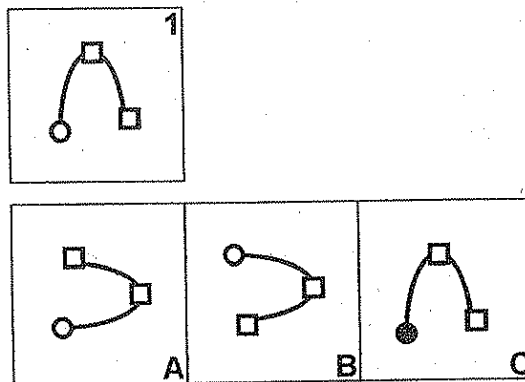
- A) Il disegno indicato con la lettera C.
- B) Il disegno indicato con la lettera B.
- C) Il disegno indicato con la lettera A.

036. Scegliere tra i disegni contrassegnati con lettere quello che completa la serie.



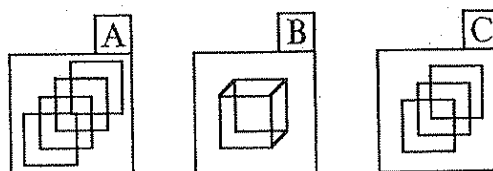
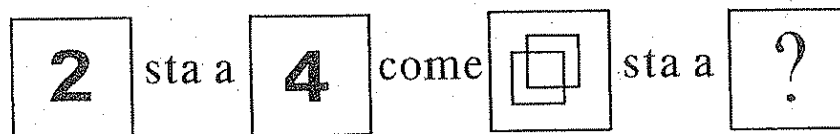
- A) Il disegno contrassegnato con A.
- B) Il disegno contrassegnato con B.
- C) Il disegno contrassegnato con C.

037. Il disegno del box 1, ribaltato e ruotato, è riproposto con tali caratteristiche nel box....



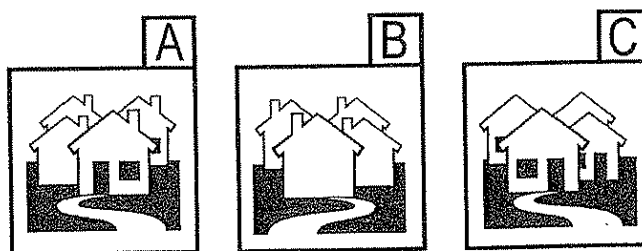
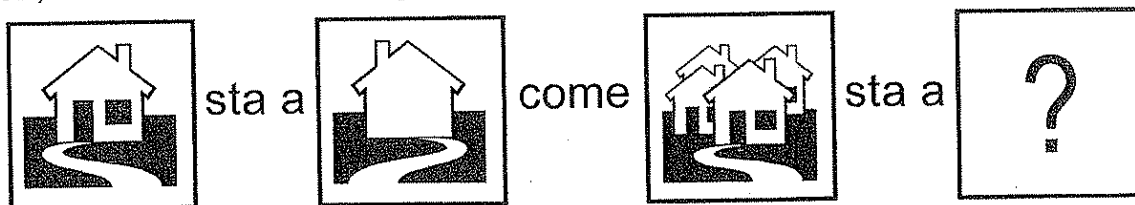
- A) Indicato con la lettera B.
- B) Indicato con la lettera A.
- C) Indicato con la lettera C.

038. Quale tra le figure proposte integra logicamente la proporzione che segue?



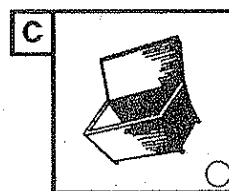

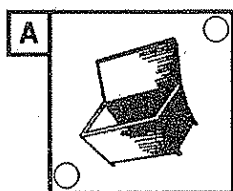

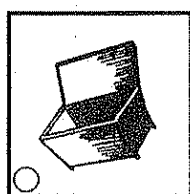
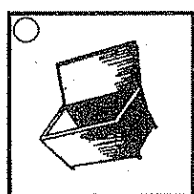
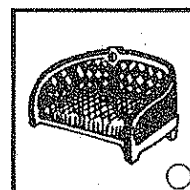
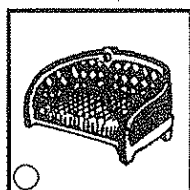
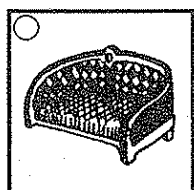
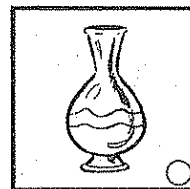


- A) La figura A.
- B) La figura C.
- C) La figura B.

039. Quale tra le figure A, B e C è corretto inserire come quarto termine della proporzione che segue?



- A) La figura A.
- B) La figura C.
- C) La figura B.

040. Si osservino i primi otto disegni proposti, il nono mancante è...



- A) Riportato nel box C.
- B) Riportato nel box A.
- C) Riportato nel box B.

REGIONE AUTONOMA FRIULI VENEZIA GIULIA

CATEGORIA FA - AREA FORESTALE - P.E. 1

CORRISPONDENZA RISPOSTE ESATTE

BATTERIA 1

DOMANDA	ESATTA
001	A
002	C
003	A
004	B
005	B
006	B
007	C
008	B
009	B
010	A
011	A
012	B
013	C
014	C
015	C
016	B
017	B
018	C
019	C
020	A
021	A
022	A
023	B
024	A
025	A
026	C
027	A
028	C
029	A
030	A
031	C
032	B
033	A
034	C
035	A
036	A
037	B
038	A
039	C
040	A